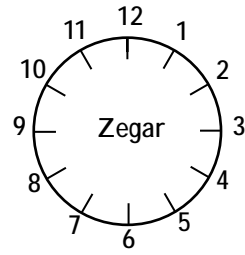
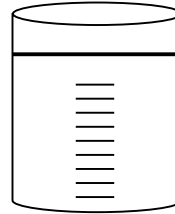


Eksperyment i wnioski


Po jakim czasie woda przesiąka przez glebę?.....



Ile wody przesiąka przez glebę? Zaznacz czerwoną linią.



Zakreśl kółkiem zbiornik z wodą, której wygląd jest zbliżony do wyglądu wody przesączonej przez glebę.



Podsumowanie

.....

.....

.....

.....

.....

Rys. GLEI-1. Sposób zorganizowania ćwiczenia

