






SCENARIUSZ 2.1. Wodni detektywi – instrukcja dla uczniów

Tabela Wodnego Detektywa

Powielić i rozdać uczniom

Imię ucznia

numer kubka	wzrok 	słuch 	powonienie 	dotyk 	smak 	pH
1						
2						
3						
4						
5						
razem						

Jak wypełniać tabelę

Na skrzyżowaniu kolumny oznaczającej dany zmysł oraz wiersza oznaczającego kolejny numerowany kubek, w odpowiedniej kratce wpisz literę X jeżeli uważasz, że płyn w kubku nie jest wodą z kranu.

Literę W wpisz w odpowiedniej kratce, jeżeli twoim zdaniem płyn w kubku jest normalną wodą z kranu.

Upewnij się, czy zawsze badając wodę używasz tylko tego zmysłu, który oznaczony jest w odpowiedniej kolumnie. Jeżeli już za pomocą każdego ze zmysłów przebadasz zawartość każdego kubka i wyniki odpowiednio zapiszesz, policz, w którym wierszu jest najwięcej oznaczeń W. Tam powinna znajdować się woda z kranu.

Rys. HYDI-1. Obieg wody w przyrodzie

